



2022-2023 EĞİTİM- ÖĞRETİM YILI
..... İLKOKULU

SOSYAL BİLGİLER DERSİ
2.DÖNEM 2.YAZILI SINAV SORULARI

PUAN:

Adı Soyadı :

Numara :

Sınıfı :

Tarih :..... / 05 / 2023

1) “ Bir insan’ın kendisini, farklı özelliklere sahip bireylerin yerine koyabilmesine denir.”

Yukarıdaki noktalı yere aşağıdaki kavramlardan hangisi getirilmelidir ?

- A) saygı B) sempati
C) empati D) düşünce



Aşağıdakilerden hangisi bunlardan biri değildir ?

- A) Sanat B) Gelenek ve Görenekler
C) Mimari eserler D) Teknolojik ürünler

3) Türkiye Cumhuriyeti’nin kurucusu ve ilk cumhurbaşkanımız aşağıdakilerden hangisidir ?

- A) Mustafa Kemal Atatürk
B) İsmet İnönü
C) Fevzi Paşa
D) Kazım Karabekir

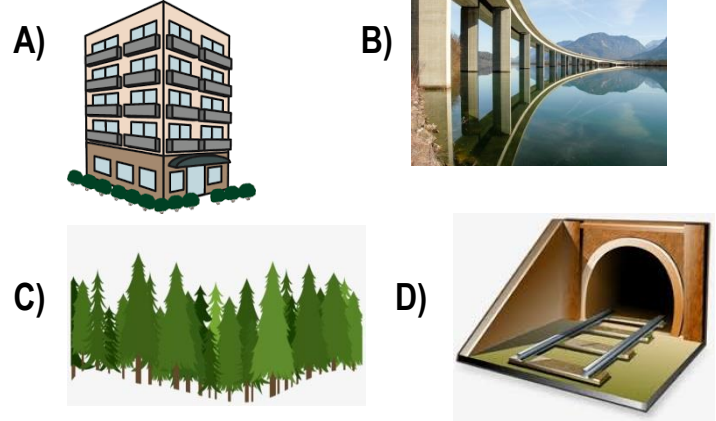
4) Kurtuluş Savaşı’nı başlatan tarihi olay aşağıdakilerden hangisidir ?

- A) Atatürk’ün Ankara’ya gelişi
B) Cumhuriyetin ilanı
C) Türkiye Büyük Millet Meclisi’nin açılması
D) Mustafa Kemal Paşa’nın Samsun’a çıkışı

5) Kısa süreli olan ve havada meydana gelen yağış , nem , sıcaklık ve rüzgar gibi olaylara ne denir ?

- A) Mevsim B) Yön
C) Hava olayları D) Gece-Gündüz

6) Aşağıdakilerden hangisi beşeri unsur değildir ?



7) Aşağıdakilerden hangisi deprem öncesinde yapılacaklardan biri değildir ?

- A) Deprem çantası hazırlamak
B) Deprem sırasında düşebilecek olan eşyaları sabitlemek
C) Sağlam bir eşyanın yanına çömelerek başı tehlikelerden korumak
D) Binaların depreme karşı dayanıklılığını kontrol etmek.

- 8) 1-Uçakhaberleşme
2-İlaç.....sağlık
3-Telefon.....ulaşım
4-Akıllı Tahta..... eğitim

Yukarıdaki eşleştirmelerden hangileri doğrudur ?

- A) 1 ve 2 B) 3 ve 4
C) 1 ve 3 D) 2 ve 4

9) Aşağıdakilerden hangisi teknolojik ürünlerin yararlarından değildir ?

- A) Sağlığımızı bozmak
B) İşlerimizi kolaylaştırmak
C) Zaman kazandırmak
D) Üretimi arttırmak

10) Aşağıdakilerden hangisi sağlık alanında kullanılan teknolojik aletlerden değildir ?

- A) Ultrason B) Stetoskop
C) MR cihazı D) Projeksiyon





11) Ailenin gelir ve giderlerini ayrıntılarıyla gösteren çizelgeye ne denir ?

- A) Gelir B) Bütçe
C) Gider D) Masraf

12) Bilinçli bir tüketici alışverişlerinde önce-likle neye dikkat etmelidir ?

- A) ihtiyaçlarına
B) ucuzluğa
C) isteklerine
D) moda olan ürünlere

13) Temel ihtiyaçlarını almak için markete giden bir kişi hangi ürünü almış olamaz ?

- A)  B) 
C)  D) 

14) Aşağıdakilerden hangisi Çocuk Hakları'n-dan değildir ?

- A) Her çocuğun yaşama hakkı vardır.
B) 18 yaşına gelene kadar her birey çocuktur.
C) Dünya üzerinde tüm çocuklar eşit haklara sahiptir.
D) Her çocuğun istediği işte çalışma hakkı vardır.

15) Aşağıdakilerden hangisi okuldaki sosyal etkinliklerin öğrencilere sağladığı faydalardan değildir ?

- A) dayanışma
B) işbirliği
C) hoşgörüsüzlük
D) bilgi ve beceri

16) Ülkemiz bağımsız olmasaydı aşağıdaki durumlardan hangileri ile karşılaşabilirdik ?

- I- Haklarımızı kullanamazdık.
II- Geleceğe umutla bakardık.
III- Huzur ve güven içinde yaşardık.

- A) Yalnız I B) I ve II
C) II ve III D) I,II ve III

17) TBMM,23 Nisan 1920'de'da açılmıştır.

Cümlede boş bırakılan yer, aşağıdakilerden hangisi ile tamamlanabilir ?

- A) İstanbul B) Ankara
C) Sinop D) Samsun

18) Aşağıdakilerden hangisi yurdumuzun sınır komşularından biri değildir ?

- A) Yunanistan B) Suriye
C) Amerika Birleşik Devletleri D) Irak

19) Her ülkenin kendine özgü yaşam şekli vardır. Bizler bu farklılıklara bakmalıyız.

- A) saygıyla B) kızgınlıkla
C) şaşkınlıkla D) öfkeyle

20) “ İnsanların giyimleri kültürlerinin bir parçasıdır. Soğuk havanın hakim olduğu ülkelerde kalın ve yünlü giysiler tercih edilir. Sıcaklığın yüksek olduğu ülkelerde ise ince giysiler tercih edilir. “

Verilen bilgi, kültür üzerinde aşağıdakilerden hangisinin etkili olduğunu gösterir ?

- A) Yeraltı kaynaklarının
B) İklimin
C) Ekonomik faaliyetlerin
D) Ülke nüfusunun

